

エルゴノミクスコンピューティング実習

02 演習課題

ex02_0 座標変換行列の確認

- `translate()`, `rotate()`, `scale()`のそれぞれが、どのような変換行列を生成するのか、以下のプログラムで確認せよ。

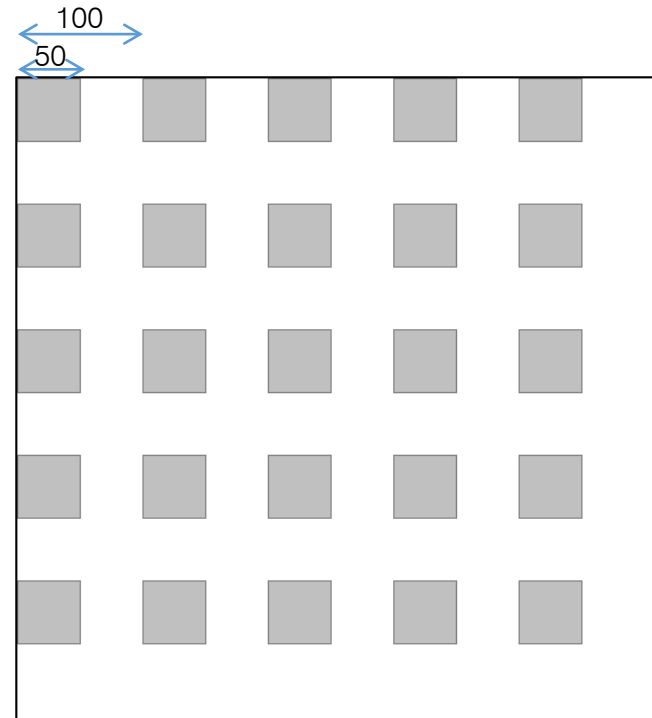

```
void setup() {  
  size(512, 512);  
  frameRate(60);  
}  
  
void draw() {  
  background(255);  
    
  printMatrix();  
}
```

ここに各座標変換関数を入れて、コンソールの出力を確認する。


- 何も入れない
 - `translate(10, 20);`
 - `rotate(PI / 4);`
 - `rotate(PI / 3);`
 - `rotate(PI / 2);`
 - `scale(10);`
- その他、適宜数値を変えてみる。

ex02_1 平行移動 translate() の使用

- 各辺の長さが50の矩形を描くコマンド `rect(0,0,50,50)` と `translate()` を適切に用いて、下に示す左の図形を描画せよ。
- 発展: 右のように2次元に広がるようにせよ。





ex02_1 テンプレート

```
void setup() {  
  size(512, 512);  
  frameRate(60);  
}  
  
void draw() {  
  background(255);  
  stroke(128);  
  fill(192);  
  int step = 100;  
  int size = 50;  
  int n = 5;  
  for (int x = 0; x < n; x++) {  
      
  }  
}
```

ここを適切に埋める。


ex02_2 回転 rotate() の使用

- 長辺が500, 短辺が50の矩形を描くコマンド `rect(0,0,500,50)` と `rotate()` を用いて, 下に示す左の図形を描画せよ.
- 発展: 角度によって色を変えてみよ. 一例を右図に示す.




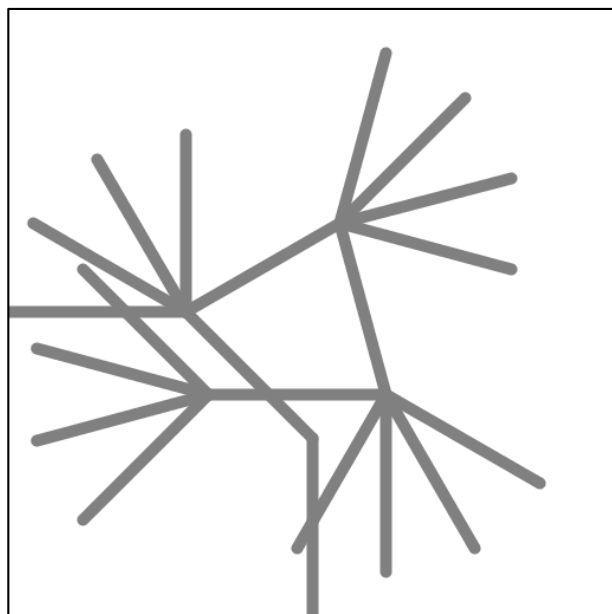
ex02_3 回転中心を変える

- 長辺が500，短辺が50の矩形を，マウスカーソルの位置に応じて，画面中心で回転させよ．回転中心は矩形の中心とせよ．
- マウスカーソルの座標は，変数 `mouseX` と `mouseY` に格納されている．
- 角度は `atan2(dy,dx)` を用いて求める．返値はラジアン．
- ヒント: `translate` を2回，`rotate` を1回，適切な順序で使う．



ex02_4

- ソースコードex02_4.pdeをダウンロードし，実行すると，左図のような結果が得られる．このソースコードにpushMatrix()とpopMatrix()を適切に加えて，右図のような結果を得るようにせよ．



ex02_5 発展課題

- 関数の再帰呼び出しとpushMatrix(),popMatrix()を適切に使用して，以下のような図形を描け.
- 各枝の長さは根元で100，末端に進むにつれてx0.8.
- 分岐の角度は $\pi/5$ ，分岐回数は10回.

